

# Свойства прямоугольника



Чтоб сегодня наш урок  
Всем пошёл ребятам впрок  
Постарайтесь всё понять,  
Слушать, думать и вникать!





An aerial photograph of a city in winter, with snow covering the ground and rooftops. The city is situated near a large body of water on the left. A red dot is placed on a street in the upper-middle part of the city. A yellow rectangular box with blue text is positioned below the red dot.

**Гимназия №33**



50-47

33-12

21:3

Гимназия №33

15+12

3X5

42-9

7x6

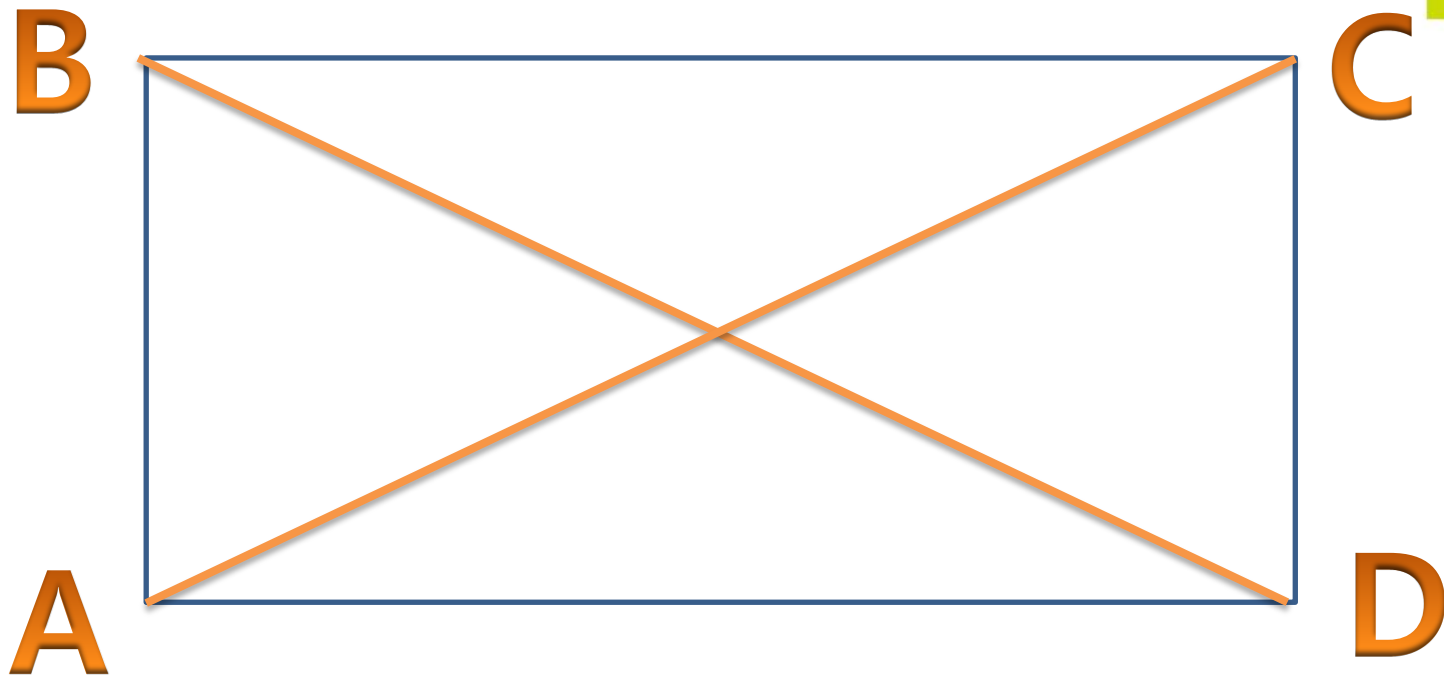








**У прямоугольника  
противоположные стороны  
равны**






Длины диагоналей прямоугольника равны


$$AC = BD$$




# ФИЗМИНУТКА







- 1.Если фигура жёлтого цвета, то это круг.
- 2.Все треугольники синего цвета.
- 3.Если фигура зелёного цвета, то это прямоугольник.





# Задачи



1. На территории района протекает 3 реки, а озёр в 4 раза больше. Сколько озёр в нашем районе?

24


5

2. Протяжённость нашего посёлка 12 км. Какое расстояние проедет автобус по маршруту туда и обратно?

50

3. В нашей школе учатся два вторых класса. В одном классе 26 учеников, а во втором 24. Сколько всего учеников во вторых классах?

12



*Спасибо, ребята,  
за хорошую работу!*

